



WAT KOMT ERNA? 2

1



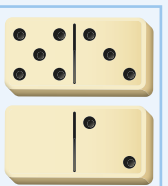







Maak de rijen af.



♥*****

*♥*****

♥**



10:10

11:11

12:12



12:00

12:20

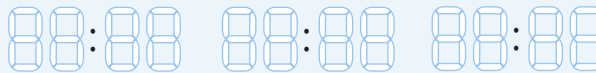
12:40



12:00

12:30

13:00



12:00

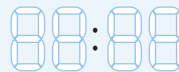
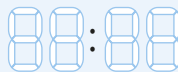
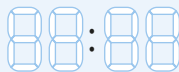
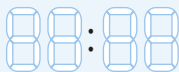
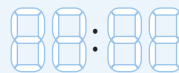
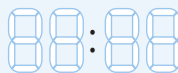
12:45

13:30



2

Bedenk zelf rijen met kloktijden.





3

Teken de volgende figuur.

Bedenk dan hoeveel hokjes van elke kleur in de 5e en de 10e figuur staan.



1	2	3	4	5	10
			 wit wit
			 blauw blauw

1	2	3	4	5	10
			 wit wit
			 blauw blauw

1	2	3	4	5	10
			 wit wit
			 blauw blauw

1	2	3	4	5	10
			 wit wit
			 blauw blauw

1	2	3	4	5	10
			 wit wit
			 blauw blauw

1	2	3	4	5	10
			 wit wit
			 blauw blauw

KIJK TERUG





EEN DAGJE UIT

BANANENBOOT per kwartier € 1,50* 	KANO € 12,50  € 17,50  € 27,00  Begeleiding van een kind door een volwassene is verplicht.	FIETS kind € 6,50 per 2 uur*  volwassene € 8,50 per 2 uur*  mountainbike €2,50 extra per fiets  helm € 3,25 per 2 uur* 
--	---	--


* Alle tijden worden naar boven afgerond.

1


Wat kost kanoën?




Doe het zo goedkoop mogelijk.



€



€



€

2

Welke kano's en hoeveel?



€ 25,00

€ 42,50

€ 50,00

3

Wat kost het?



14:30 16:00

Wij huren 2 roeiboten.



€



Wij gaan met de bananenboot.



13:40 14:35

€



14:35 16:05

Wij huren 1 bananenboot en 1 roeiboot.



€



4

Wat kost het?



11:25

12:00

We huren elk 1 fiets.



€



13:25

15:15

We huren elk 1 mountainbike en 1 helm.



€



10:45

14:45

We huren elk 1 mountainbike en elk 1 helm.




€

5

Wat kost het programma voor deze groep?



PROGRAMMA		
's morgens 2 uur 	lunch 	's middags



Fietsen	€
Lunch	€
Kanovaren	€
Totaal	€


6

Bedenk zelf een programma en reken uit wat het kost voor deze groep.

Laat iemand anders het antwoord controleren.



PROGRAMMA		
's morgens 2 uur	lunch 	's middags



	€
Lunch	€
	€
	€

KIJK TERUG





ALLES OP EEN RIJTJE

1



Schrijf de namen op volgorde van jong naar oud.

Ik ben Mark.
Ik ben 1 jaar
jonger
dan Dries.



Ik ben Bas.
Ik ben 1 jaar
jonger
dan Jonas.



Ik ben Jonas.
Ik ben 1 jaar
jonger
dan Mark.



Ik ben Dries.



Ik ben Aniek.
Ik ben 2 jaar
ouder
dan Mia.



Ik ben Lisa.
Ik ben 2 jaar
jonger
dan Mia.



Ik ben Elsa.
Ik ben 2 jaar
ouder
dan Aniek.



Ik ben Mia.



Ik ben Ward.
Ik ben 1 jaar
ouder
dan Jan.



Ik ben Jan.
Ik ben 1 jaar
ouder
dan Klaas.



Ik ben Tim.
Ik ben 2 jaar
ouder
dan Jan.



Ik ben Kees.
Ik ben 1 jaar
ouder
dan Tim.



Ik ben Klaas.



Ik ben Lara.
Ik ben 1 jaar
jonger
dan Sien.



Ik ben Hanna.
Ik ben 1 jaar
jonger
dan Lara.



Ik ben Evy.
Ik ben 1 jaar
ouder
dan Sien.



Ik ben Jet.
Ik ben 3 jaar
jonger
dan Sien.



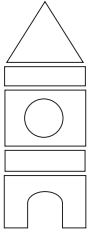
Ik ben Sien.



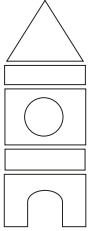


2

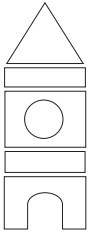
Kleur de blokken.



Onder het gele blok staan nog 2 blokken.
 Het groene blok staat onder het paarse.
 Het blauwe blok staat onder het rode.
 Het blauwe blok is niet de onderste.



Het rode blok staat tussen het groene en het paarse blok.
 Het gele blok staat tussen het oranje en het groene blok.
 Onder het gele blok staat nog 1 blok.



Het oranje blok is niet het onderste blok.
 Het rode blok staat onder het groene blok.
 Het oranje blok staat onder het paarse blok.
 Het rode blok staat boven het blauwe blok.

3

Vul de juiste kleur in.



Het blok staat tussen het oranje en het blok.
 Het blok staat onder het oranje blok.
 Het blok staat onderaan.



Het blok is het onderste blok.
 Het blok staat onder het blauwe blok.
 Het blok staat boven het blauwe blok.
 Het blok staat tussen het blauwe blok en het oranje blok.

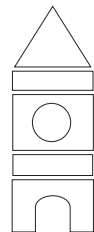
4

Bedenk zelf. Vul de juiste kleur en antwoorden in.

Laat iemand anders het antwoord controleren.



Het blok staat tussen het en het blok.
 Het blok staat onder het blok.
 Het blok staat onderaan.



KIJK TERUG

