



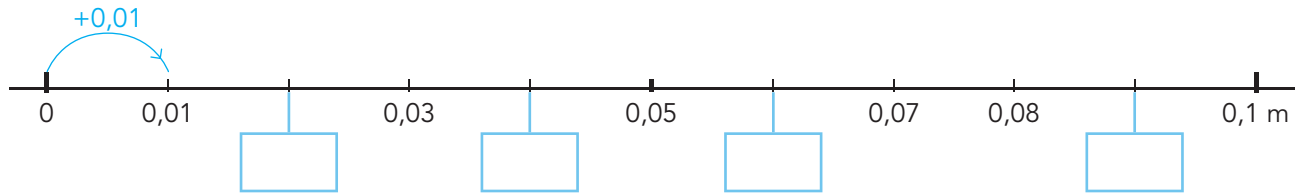
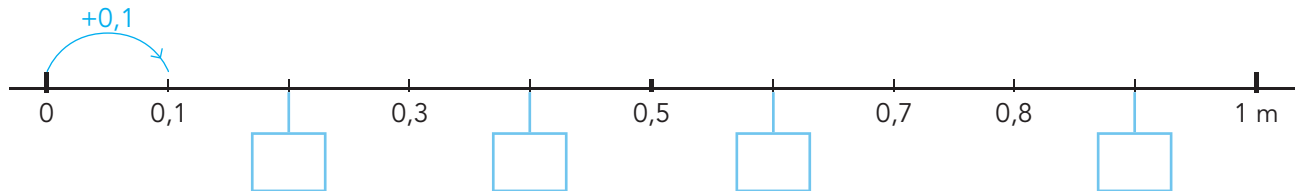
Les 1



Lessen

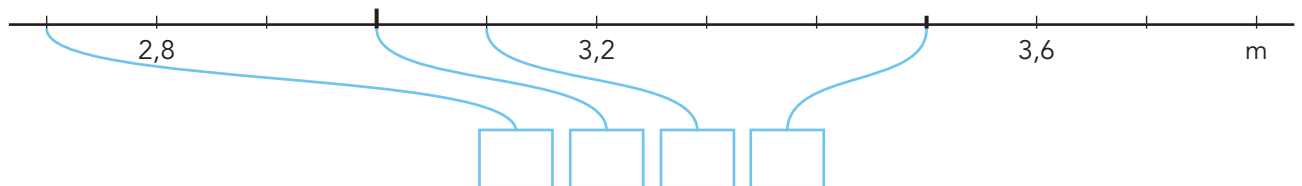
1

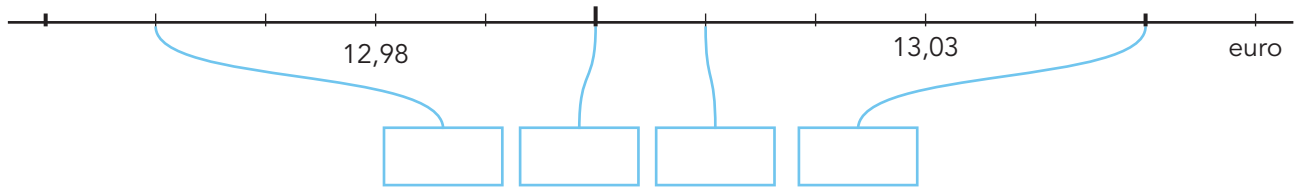
Vul de kommagetallen in.



2

Vul de kommagetallen in.



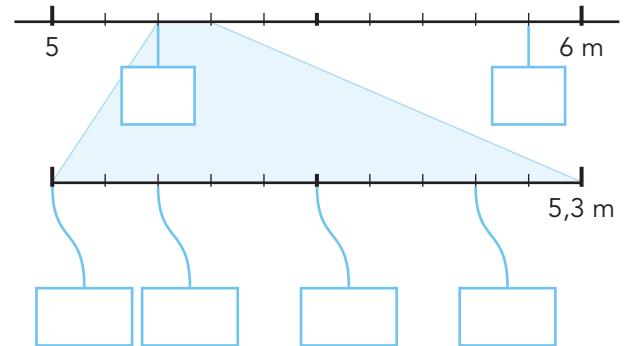
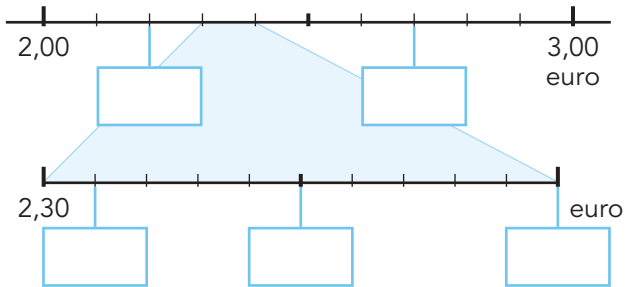


## Basistaak 1



1

**S** Vul de kommagetallen in.



ga naar

basistaak 1 S

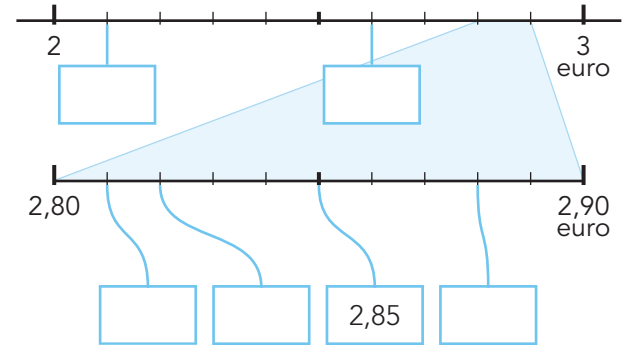
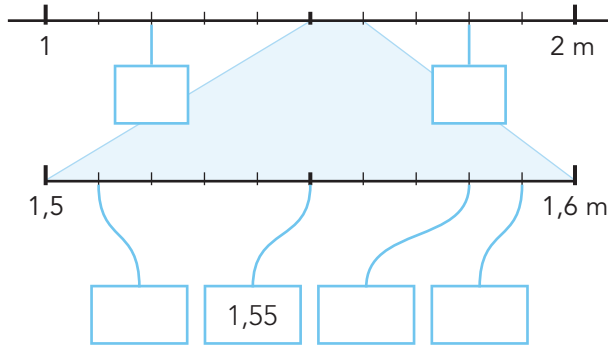
oefening 2



Taken

1

**F** Vul de kommagetallen in.



ga naar



basistaak 1 F

oefening 2

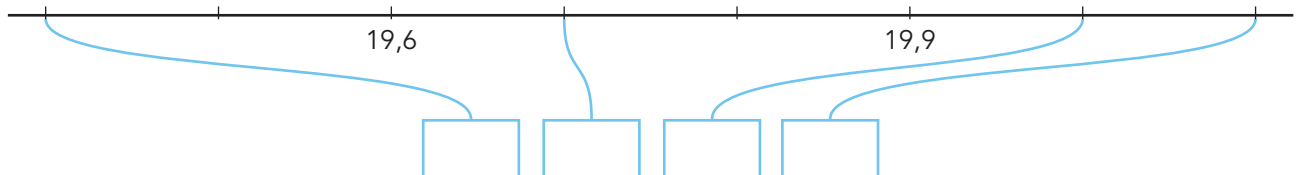
## Les 2

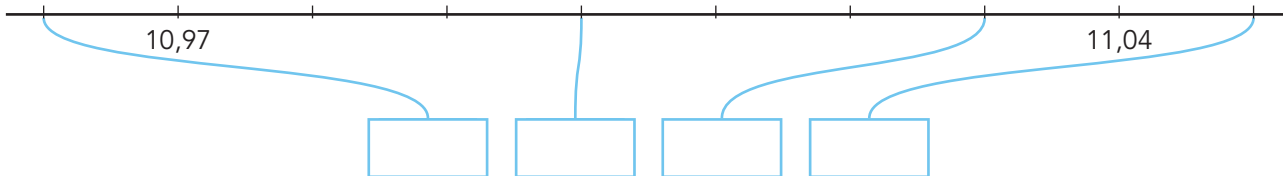


Lessen

1

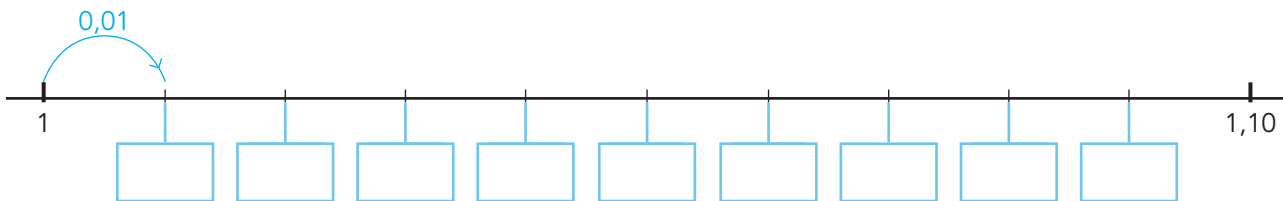
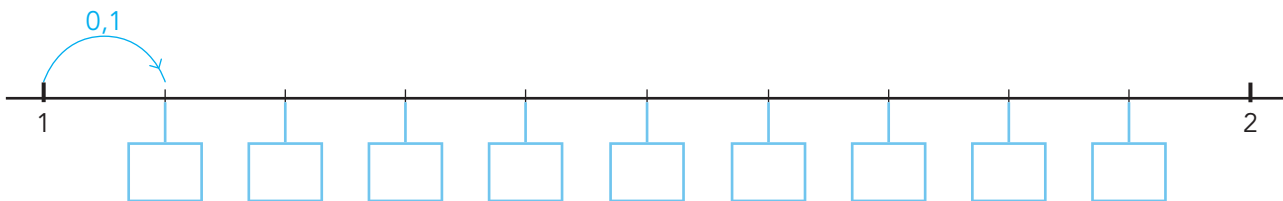
**F** Vul de kommagetallen in.





**2**

Vul de kommagetallen in.



ga naar 

 les 2 F en S

instap oefening

Les 8



1

**s Welke som hoort erbij?**

Reken uit met splitsen en met te veel.

In de fabriek worden 145 koeken verpakt.  
Er kunnen 5 koeken in een doos.  
Hoeveel dozen kun je vullen?

som: .....

antwoord: .....

Reken met splitsen.

$$145 : 5 = \dots\dots$$

.....

hulpsommen: .....

Reken met te veel.

.....

$$145 : 5 = \dots\dots$$

hulpsommen: .....

2

**s Reken uit met te veel.**

Schrijf de hulpsom in de denkwolk.

50 - 1

$$245 : 5 = \dots\dots$$

$$152 : 4 = \dots\dots$$

$$196 : 7 = \dots\dots$$

$$144 : 3 = \dots\dots$$

1

**S Reken uit.**

Reken uit met splitsen én met te veel.

Reken met splitsen.

$$171 : 9 = \dots\dots$$



.....

$$174 : 6 = \dots\dots$$



.....

$$272 : 4 = \dots\dots$$



.....

$$174 : 3 = \dots\dots$$



.....

Reken met te veel.



$$171 : 9 = \dots\dots$$



$$174 : 6 = \dots\dots$$



$$272 : 4 = \dots\dots$$



$$174 : 3 = \dots\dots$$

Les 9



Lessen

1

**s Rekenen met splitsen of met te veel?**

Zet de sommen in het juiste rijtje en reken uit.

$552 : 8$

$133 : 7$

$256 : 4$

$126 : 3$

$204 : 3$

$364 : 7$

$215 : 5$

$152 : 4$

Reken met splitsen.

Reken met te veel.

.....

.....

.....

.....

.....

.....

.....

.....



Taken

1

## S Reken uit.

Reken uit met splitsen én met te veel.

Reken met splitsen.

$$133 : 7 = \dots\dots$$



.....

$$190 : 5 = \dots\dots$$



.....

$$192 : 4 = \dots\dots$$



.....

$$234 : 6 = \dots\dots$$



.....

Reken met te veel.



$$133 : 7 = \dots\dots$$



$$190 : 5 = \dots\dots$$



$$192 : 4 = \dots\dots$$



$$234 : 6 = \dots\dots$$

ga naar

basistaak 9 S

oefening 2

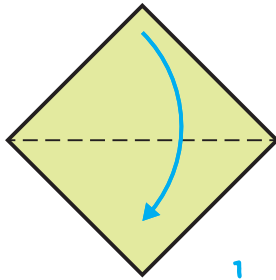


Les 13

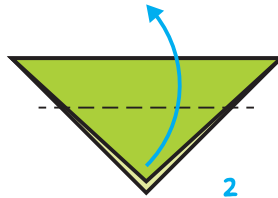


1

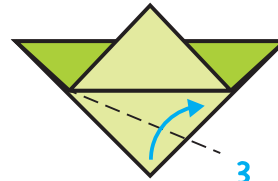
Vouw de vis volgens de 9 stappen.



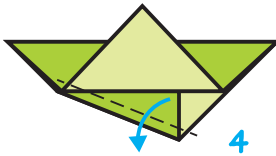
1



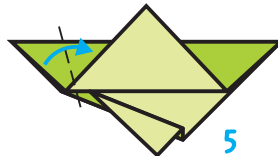
2



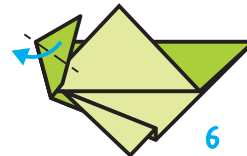
3



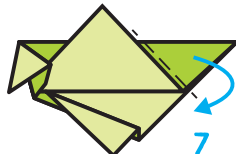
4



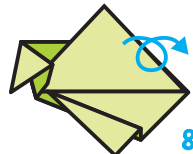
5



6



7



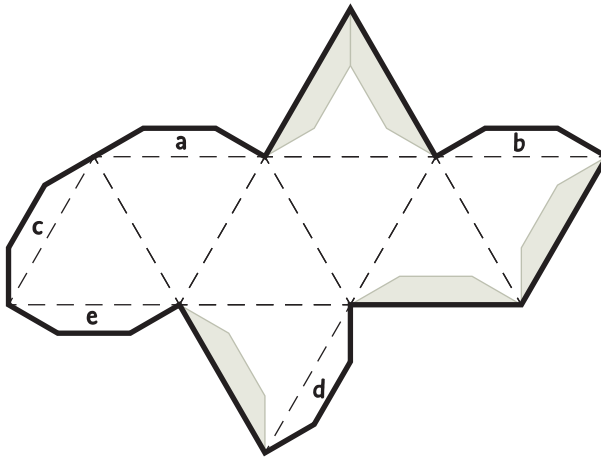
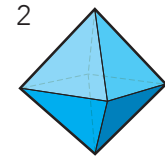
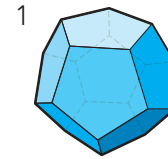
8



9

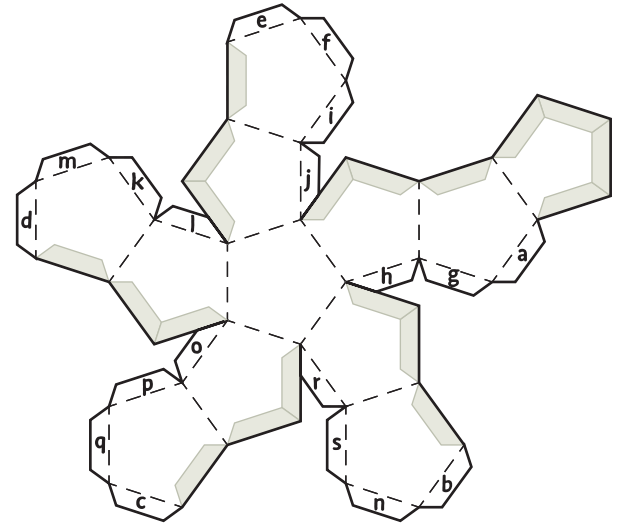
2

Welk veelvlak kun je met de bouwplaat maken?



Ik zie ..... vlakken.

Ik kan hier figuur ..... mee maken.



Ik zie ..... vlakken.

Ik kan hier figuur ..... mee maken.

## 3

**Maak van jouw bouwplaat een gekleurd veelvlak.**

Gebruik het juiste stappenplan.

**stappenplan bij het veelvlak met 8 vlakken**

1. Geef elk vlak op de bouwplaat 1 gekleurd stipje. Gebruik 3 kleuren. Zorg ervoor dat vlakken die elkaar raken niet dezelfde kleur hebben.
2. Knip uit langs de dikke lijnen.
3. Vouw de gestippelde lijnen.
4. Bedenk tegen welke grijze rand de plakstrook met een letter komt en schrijf daar dezelfde letter.
5. Heb je de kleuren goed bedacht? Nee? Verbeter. Ja? Kleur de vlakken helemaal.
6. Plak de plakstrook op de goede rand.

**stappenplan bij het veelvlak met 12 vlakken**

1. Geef elk vlak op de bouwplaat 1 gekleurd stipje. Gebruik 3 kleuren. Zorg ervoor dat vlakken die elkaar raken niet dezelfde kleur hebben.
2. Knip uit langs de dikke lijnen.

3. Vouw de gestippelde lijnen.
4. Bedenk tegen welke grijze rand de plakstrook met een letter komt en schrijf daar dezelfde letter.
5. Heb je de kleuren goed bedacht? Nee? Verbeter. Ja? Kleur de vlakken helemaal.
6. Plak de plakstrook op de goede rand.



## kijk terug

Waar komen de getallen?

Van dit veelvlak met 8 vlakken kun je een dobbelsteen vouwen.

De getallen op tegenover elkaar liggende vlakken zijn samen altijd: .....

Schrijf de getallen 1 tot en met 8 op de goede vlakken.

